

Time: 40 Minutes

Paper Math 2

Total Marks: 25

3rd Month, 3rd Week, 6th Day

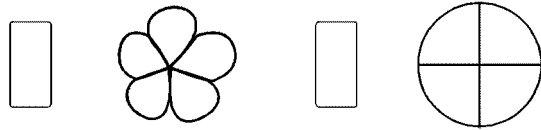
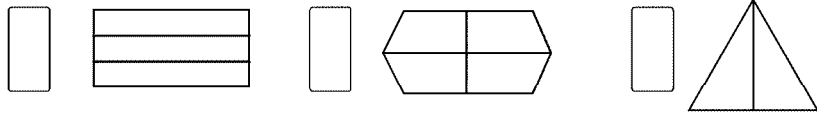
Syllabus: Revision Test

Q.1. Match the shape with the given fraction. (5)۔ درج ذیل اشکال کو دی گئی فرکشن سے ملائیں۔

$\frac{1}{7}$	•	•	
$\frac{1}{9}$	•	•	
$\frac{1}{8}$	•	•	
$\frac{1}{6}$	•	•	

Q.2. Colour one part of each shape and write fraction for the coloured. (10)

ہر شکل کے ایک حصے میں رنگ کریں اور رنگ اور حصے کی فرکشن لکھیں۔



Q.3. Colour the shape for the given fraction. (10)۔ دی گئی فرکشن کے مطابق اشکال میں رنگ کریں۔

$\frac{3}{5}$		$\frac{3}{4}$	
$\frac{2}{7}$		$\frac{9}{10}$	

Time: 40 Minutes

Paper Math 2

Total Marks: 25

3rd Month, 3rd Week, 6th Day

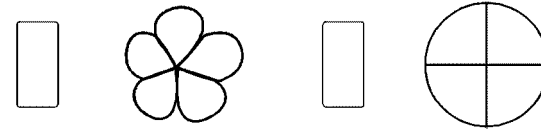
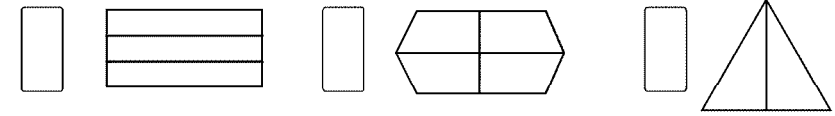
Syllabus: Revision Test

Q.1. Match the shape with the given fraction. (5)۔ درج ذیل اشکال کو دی گئی فرکشن سے ملائیں۔

$\frac{1}{7}$	•	•	
$\frac{1}{9}$	•	•	
$\frac{1}{8}$	•	•	
$\frac{1}{6}$	•	•	

Q.2. Colour one part of each shape and write fraction for the coloured. (10)

ہر شکل کے ایک حصے میں رنگ کریں اور رنگ اور حصے کی فرکشن لکھیں۔



Q.3. Colour the shape for the given fraction. (10)۔ دی گئی فرکشن کے مطابق اشکال میں رنگ کریں۔

$\frac{3}{5}$		$\frac{3}{4}$	
$\frac{2}{7}$		$\frac{9}{10}$	